

NAME:

AUFGABE 1

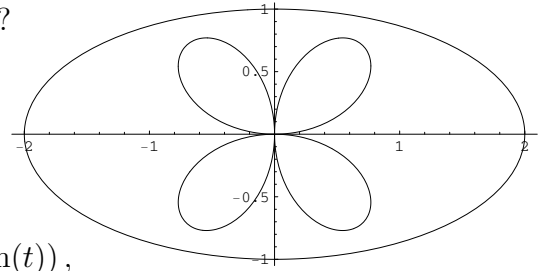
1. (a) Wie lautet die Definition der Bogenlänge einer Kurve?

(b) Zeigen Sie, dass die Kurven

$$\alpha : [0, 2\pi] \rightarrow \mathbb{R}^2 \text{ mit } \alpha(t) = (2 \sin(t), \cos(t)),$$

$$\beta : [0, 2\pi] \rightarrow \mathbb{R}^2 \text{ mit } \beta(t) = (\sin(2t) \cos(t), \sin(2t) \sin(t)),$$

die gleiche Bogenlänge haben.



NAME:

AUFGABE 2

2. Geben Sie alle Lösungen der Differentialgleichung $x'(t) = (1 + x(t))^2$ mit ihren Existenzintervallen an.

NAME:

AUFGABE 3

3. Wir betrachten das folgende System von Differentialgleichungen:

$$\begin{cases} x'(t) = 2y(t) - x(t), \\ y'(t) = x(t). \end{cases}$$

- (a) Ist dieses System stabil? (*neutral stabil, asymptotisch stabil, instabil, ...*)
- (b) Zu welchem Typ gehört dieses System? (*Knoten, entarteter Knoten, Sattelpunkt, Zentrum, Strudel, Quark, ...*)

NAME:

AUFGABE 4

4. (a) Sei $A \in M^{n \times n}(\mathbb{R})$ und $\{\varphi_i \in \mathbb{R}^n; 1 \leq i \leq n\}$ eine Basis für \mathbb{R}^n von Eigenvektoren von A . Die zugehörigen Eigenwerte nennen wir $\{\lambda_i\}_{i=1}^n$, das heißt: $A\varphi_i = \lambda_i\varphi_i$. Zeigen Sie, dass

$$\exp(tA)\varphi_i = e^{\lambda_i t}\varphi_i.$$

- (b) Sei $A \in M^{3 \times 3}(\mathbb{R})$ eine Matrix mit folgenden Eigenwerten und Eigenvektoren:

$$\lambda_1 = 1 \text{ mit } \varphi_1 = \begin{pmatrix} 1 \\ 1 \\ 1 \end{pmatrix}, \quad \lambda_2 = -1 \text{ mit } \varphi_2 = \begin{pmatrix} 1 \\ -1 \\ 1 \end{pmatrix} \quad \text{und} \quad \lambda_3 = 0 \text{ mit } \varphi_3 = \begin{pmatrix} 0 \\ 0 \\ 1 \end{pmatrix}.$$

Berechnen Sie die Lösung zu $\begin{pmatrix} x'(t) \\ y'(t) \\ z'(t) \end{pmatrix} = A \begin{pmatrix} x(t) \\ y(t) \\ z(t) \end{pmatrix}$ mit $\begin{pmatrix} x(0) \\ y(0) \\ z(0) \end{pmatrix} = \begin{pmatrix} 2 \\ 0 \\ 0 \end{pmatrix}$.

NAME:

AUFGABE 5

5. Berechnen Sie die Extrema von $f : \mathbb{R}^2 \rightarrow \mathbb{R}$ mit $f(x, y) = e^{x^2-y^2} (x^2 + y^2)$.

NAME:

AUFGABE 6

6. (a) Sei $f : \mathbb{R}^2 \rightarrow \mathbb{R}$ eine Funktion.
Geben Sie eine Definition von “ f ist differenzierbar in a ” an.
- (b) Seien $f : \mathbb{R}^2 \rightarrow \mathbb{R}$ und $g : \mathbb{R} \rightarrow \mathbb{R}$ stetig differenzierbar.
Ist $h : \mathbb{R} \rightarrow \mathbb{R}$ mit $h(x) = f(x, g(x))$ differenzierbar?
- (c) Seien folgende Werte gegeben:

$$f(0, 0) = 1, \partial_1 f(0, 0) = 2, \partial_2 f(0, 0) = 3, g(0) = 0 \text{ und } g'(0) = 4.$$

Wenn möglich, berechnen Sie $h'(0)$ für h aus (b).

NAME:

AUFGABE 7

7. Sei $B_r(a) = \{x \in \mathbb{R}^2; \|x - a\| < r\}$ die offene Kreisscheibe mit Radius r und Mittelpunkt a .
Sei $D_r(a) = \{x \in \mathbb{R}^2; \|x - a\| \leq r\}$ die abgeschlossene Kreisscheibe mit Radius r und Mittelpunkt a .

Wir definieren A als die Vereinigung abzählbar vieler abgeschlossener Kreisscheiben wie folgt:

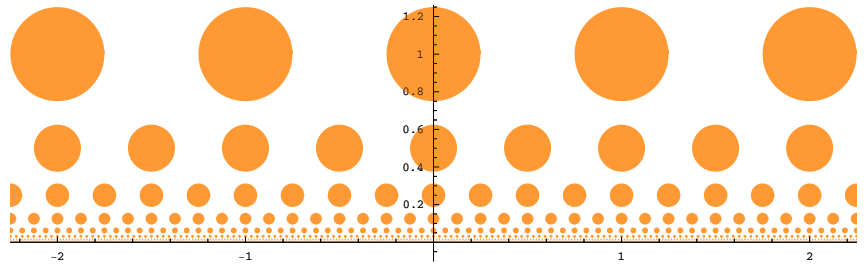
$$A = \bigcup_{k \in \mathbb{N}} \bigcup_{n \in \mathbb{Z}} D_{\frac{1}{2^{k+2}}} \left(\frac{n}{2^k}, \frac{1}{2^k} \right).$$

Eine Skizze von A ist beigelegt.

- (a) Gilt folgendes:

$$A^\circ = \bigcup_{k \in \mathbb{N}} \bigcup_{n \in \mathbb{Z}} B_{\frac{1}{2^{k+2}}} \left(\frac{n}{2^k}, \frac{1}{2^k} \right) ?$$

- (b) Ist A abgeschlossen?
(c) Welche Häufungspunkte hat A ?



NAME:

AUFGABE 8

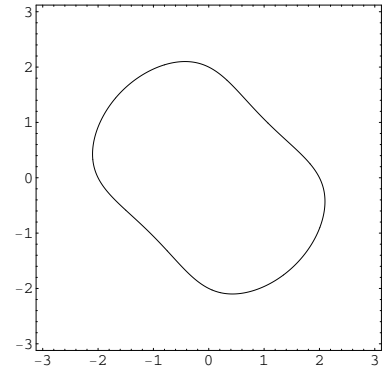
8. Berechnen Sie das Taylorpolynom zweiter Ordnung von $f : \mathbb{R}^2 \rightarrow \mathbb{R}$ mit $f(x, y) = ye^{xy}$ in $(0, 1)$.

NAME:

AUFGABE 9

9. Wir definieren $k = \{(x, y) \in \mathbb{R}^2; x^2 + y^2 + e^{xy} = 5\}$.

- (a) Zeigen Sie, dass k beschränkt ist.
- (b) Man berechne die Tangente durch $(0, 2)$ an die Menge k .



NAME:

AUFGABE 10

10. (a) Sei $f : \mathbb{R}^2 \rightarrow \mathbb{R}^2$ eine zweimal stetig differenzierbare Funktion. Unter welcher Bedingung ist $f : B_r(a) \rightarrow f(B_r(a))$, mit $r > 0$ genügend klein, invertierbar?

(b) Wir nehmen $f \begin{pmatrix} x \\ y \end{pmatrix} = \begin{pmatrix} x^2 - y^2 + 2x \\ (x+1)y \end{pmatrix}$.

Es gibt eine Stelle $a \in \mathbb{R}^2$, wo f lokal nicht invertierbar ist. Berechnen Sie diese Stelle a .

