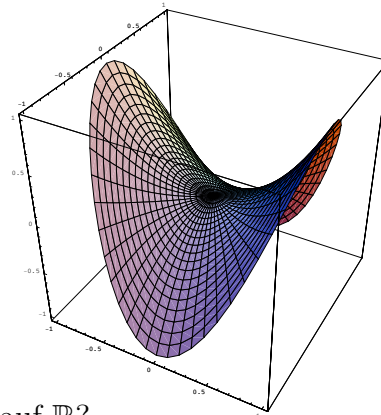


1. Ist $\|\cdot\| : \mathbb{R}^3 \rightarrow \mathbb{R}$, definiert durch $\|x\| = |x_1| + \sqrt{x_2^2 + x_3^2}$, eine Norm auf \mathbb{R}^3 ?

2. Geben Sie ein Integral an für den Flächeninhalt von

$$\{(x, y, z); z = x^2 - y^2 \text{ und } x^2 + y^2 \leq 1\}.$$

Sie brauchen das Integral nicht explizit zu berechnen.



3. Bildet $\mathcal{T} = \{(a, b); a, b \in \mathbb{R} \text{ mit } a \leq b\}$ eine Topologie auf \mathbb{R} ?

4. \mathcal{A}_1 und \mathcal{A}_2 sind σ -Algebren auf X . Beweisen oder widerlegen Sie:

(a) $\mathcal{A}_1 \cap \mathcal{A}_2$ ist eine σ -Algebra auf X ;


(b) $\mathcal{A}_1 \cup \mathcal{A}_2$ ist eine σ -Algebra auf X .

5. Seien (X, \mathcal{A}_1) und (Y, \mathcal{A}_2) messbare Räume. Wann nennt man eine Funktion $f : X \rightarrow Y$ \mathcal{A}_1 - \mathcal{A}_2 -messbar?

6. Sei $f_\alpha : \mathbb{R}^2 \rightarrow \mathbb{R}$ definiert durch

$$f_\alpha(x, y) = \frac{x^2 - y^2}{(1 + x^2 + y^2)^\alpha}$$

Für welche $\alpha \in \mathbb{R}$ gilt $f_\alpha \in L^3(\mathbb{R}^2)$?



7. Betrachte $g : \mathbb{R}^+ \rightarrow \mathbb{R}$ mit $g(x) = x^{-1} \sin(x^{-2})$.

(a) Ist g Riemann-integrierbar auf $(0, 1)$?

(b) Ist g uneigentlich Riemann-integrierbar auf $(0, 1)$?

(c) Ist g Lebesgue-integrierbar auf $(0, 1)$?

8. Berechnen Sie das Volumen $\text{Vol}_{\mathbb{R}^3}(D)$ von

$$D = \{(x, y, z); x^2 + y^2 \leq 2 + \sin z \text{ und } 0 \leq z \leq \pi\}.$$

9. Geben Sie die Hölder-Ungleichung an.

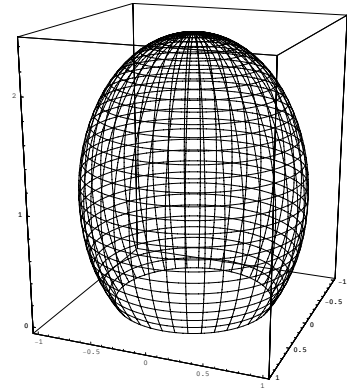
10. Berechnen Sie für

$$M = \{(x, y, z); \frac{1}{2}(z-1)^2 + x^2 + y^2 = 1\}$$

das Integral

$$\iint_{M \cap [z > 0]} \left(\nabla \times \begin{pmatrix} xy \\ yz \\ zx \end{pmatrix} \right) \cdot \vec{n} d\sigma,$$

wobei \vec{n} der nach außen zeigende Normalenvektor auf M ist.



$$M \cap [z > 0] = \{(x, y, z) \in M; z > 0\}.$$