

# Analysis 3

## Übungsblatt 11

Die Lösungen müssen in den Übungsbriefkasten Analysis 3 (Raum 301 im MI) geworfen werden. Abgabeschluss ist am Donnerstag, den 11.01.2018, um 12 Uhr.

**Aufgabe 1:** Wahr oder falsch? Begründen Sie jeweils Ihre Antwort.

- (a) Der Block  $R_{a,b,c} = (0, a) \times (0, b) \times (0, c)$ , mit  $a, b, c > 0$ , hat Volumen  $V(R_{a,b,c}) = abc$ . Für die Flächeninhalte der einzelnen Seiten gilt

$$S_1(R_{a,b,c}) = \frac{\partial}{\partial a} V(R_{a,b,c}), \quad S_2(R_{a,b,c}) = \frac{\partial}{\partial b} V(R_{a,b,c}), \quad S_3(R_{a,b,c}) = \frac{\partial}{\partial c} V(R_{a,b,c}).$$

- (b) Die Kugel  $B_R(0)$  mit Radius  $R$  in  $\mathbb{R}^3$  hat Volumen  $V(B_R(0)) = \frac{4}{3}\pi R^3$ . Für den Flächeninhalt  $S(B_R(0))$  einer Sphäre in  $\mathbb{R}^3$  mit Radius  $R$  gilt

$$S(B_R(0)) = \frac{\partial}{\partial R} V(B_R(0)).$$

- (c) Der Zylinder  $Z_{R,\ell}$  mit Radius  $R$  und Länge  $\ell$  hat Volumen  $V(Z_{R,\ell}) = \pi R^2 \ell$ . Für die Flächeninhalte der flachen, beziehungsweise runde Seite gilt  $S(B_R(0))$  einer Sphäre in  $\mathbb{R}^3$  mit Radius  $R$  gilt

$$S_f(Z_{R,\ell}) = \frac{\partial}{\partial \ell} V(Z_{R,\ell}), \quad S_r(Z_{R,\ell}) = \frac{\partial}{\partial R} V(Z_{R,\ell}).$$

- (d) Das Ellipsoid  $E_a = \{x^2 + 4y^2 + 9z^2 < a^2\}$ , mit  $a > 0$ , hat Volumen  $V(E_a) = 8\pi a^3$ . Für den Flächeninhalt der Oberfläche dieses Ellipsoid gilt

$$S(E_a) = \frac{\partial}{\partial a} V(E_a).$$

**Aufgabe 2** (2+3 Punkte): Zeigen Sie:

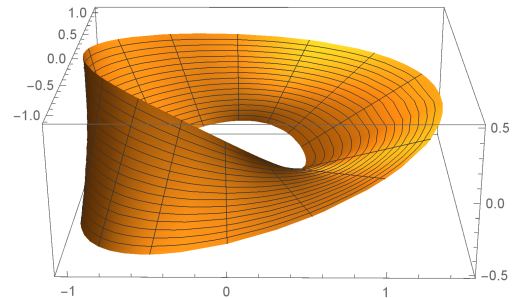
- (a) Jede stetig differenzierbare Kurve  $\gamma : (0, 1) \rightarrow \mathbb{R}^n$  mit  $\dot{\gamma}(t) \neq 0$  für alle  $t \in [0, 1]$  ist eine Immersion.
- (b) Ist  $\alpha = (r, z) : (0, 1) \rightarrow \mathbb{R}^2$  eine stetig differenzierbare Kurve mit  $\dot{\alpha}(t) \neq 0$  und  $r(t) > 0$  für alle  $t \in (0, 1)$ , dann ist

$$\gamma(s, t) := \begin{pmatrix} r(s) \cos(t) \\ r(s) \sin(t) \\ z(s) \end{pmatrix}$$

eine Immersion.

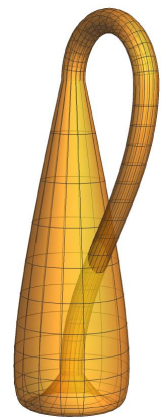
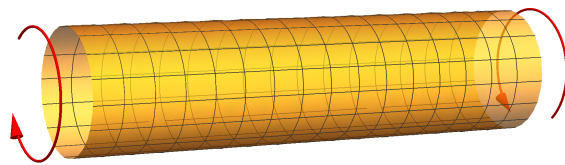
**Aufgabe 3** (3+2 Punkte): Sei  $M = \left\{ (x, y, z) \in \mathbb{R}^3; \frac{x^2}{a^2} + \frac{y^2}{b^2} + \frac{z^2}{c^2} = 1 \right\}$  mit  $a, b, c \in \mathbb{R}^+$  und  $p = \left( -\frac{1}{2}a, \frac{1}{2}b, \frac{\sqrt{2}}{2}c \right)$ .

- (a) Bestimmen Sie den Tangentialraum  $T_p M$ .
- (b) Bestimmen Sie den Kotangentialraum  $T_p^* M$ .




**Aufgabe 4** (6 Punkte): Sei  $M$  das Möbius-Band wie in Aufgabe 1 von Blatt 10 definiert. Zeigen Sie, dass  $M$  nicht orientierbar ist.

**Aufgabe 5:** Die Kleinsche Flasche entsteht durch Verkleben der Enden eines Zylinders, jedoch nicht so wie beim Torus, sondern in entgegengesetzter Richtung (siehe Bild). Wenn man dies in  $\mathbb{R}^3$  machen möchte, entsteht dabei eine sich selbst durchdringende Menge.



Man kann den Zylinder jedoch in  $\mathbb{R}^4$  verkleben zu einer Mannigfaltigkeit ohne Selbstdurchschneidung. Zum Beispiel durch die Parametrisierung

$$p(s, t) = \begin{pmatrix} 4 \cos t + \cos s \cos(t/2) \\ 4 \sin t + \cos s \sin(t/2) \\ \sin s \\ \sin t \end{pmatrix}$$



In der letzten Skizze sehen Sie die ersten 3 Komponenten von  $p(s, t)$  dargestellt. Zeigen Sie, dass  $M = \{p(s, t); s, t \in \mathbb{R}\}$  eine nicht orientierbare Mannigfaltigkeit ist.

**Aufgabe 6** (2+2+0 Punkte): Ist die jeweilige Menge eine Mannigfaltigkeit? Wenn ja, ist sie orientierbar?

- (a)  $\left\{ \left( \begin{pmatrix} (2 + \cos \varphi) \cos \theta \\ (2 + \cos \varphi) \sin \theta \\ \sin \varphi \end{pmatrix} \in \mathbb{R}^3; \theta, \varphi \in \mathbb{R} \right\}$
- (b)  $\left\{ \left( \begin{pmatrix} (1 + 2 \cos \varphi) \cos \theta \\ (1 + 2 \cos \varphi) \sin \theta \\ \sin \varphi \end{pmatrix} \in \mathbb{R}^3; \theta, \varphi \in \mathbb{R} \right\}$
- (c)  $\left\{ \left( \begin{pmatrix} \cos t \cos s \\ \sin t \cos s \\ \cos t \sin s \\ -\sin t \sin s \end{pmatrix} \in \mathbb{R}^4; s, t \in \mathbb{R} \right\}$